



УКРАЇНСЬКИЙ
ЦЕНТР
ОЦІНЮВАННЯ
ЯКОСТІ ОСВІТИ



НМТ
2025

ІСТОРІЯ УКРАЇНИ

*демонстраційний варіант
правильні відповіді*



Зміст завдань блоку НМТ
з історії України буде
відповідати чинній програмі
ЗНО з історії України


Завдання 1–20 мають по чотири варіанти відповіді, з яких лише один правильний. Виберіть правильний, на Вашу думку, варіант відповіді й позначте його.

1 Яку із зображених на фото історичних пам'яток виявлено під час археологічних досліджень кургану Товста Могила?

А



Б



В



Г



2 Що стало поштовхом до описаних у джерелі дій княгині: «І пішла Ольга по Древланській землі з сином своїм і дружиною своєю, установлюючи устами її уроки; І донині є становища її і ловища її...»; «Пішла Ольга до Новгороду. І встановила вона... погости й оброки. І ловища її по всій землі, і знаки [її],.. і сани її стоять у Пскові й до сьогодні...»?

- А загибель київського князя Ігоря
- Б захоплення влади в Києві князем Олегом
- В невдалий похід князя Святослава на Балкани
- Г початок систематичних нападів на Русь-Україну печенігів

3 Який термін доречно використовувати, характеризуючи залежність руських князівств від Золотої Орди?

- А «ярлик»
- Б «вотчина»
- В «холоп»
- Г «магдебурзьке право»

4 Яка подія відбулася 1569 року?

- А заснування першої Запорозької Січі на о. Мала Хортиця
- Б похід козаків під проводом П. Сагайдачного на Московське царство
- В об'єднання Великого князівства Литовського та Королівства Польського
- Г укладення козацького реєстру польським королем Стефаном Баторієм

5 Укажіть мистецьку пам'ятку, що увічніює провідника Національно-визвольної війни українського народу середини XVII ст.

А



Б



В



Г



6 Автором цитованого документа «...Договори наші... уклав я з Королем Шведським письмовим актом, підписаним з обох сторін... І тепер ми вважати повинні Шведів за своїх приятелів, союзників, добродіїв і немовби од Бога посланих, щоб увільнити нас від рабства... Відомо ж бо, що колись були ми ті, що тепер московці: уряд, первинність і сама назва Русь од нас до них перейшли...» був

- А П. Сагайдачний.
- Б І. Виговський.
- В І. Самойлович.
- Г І. Мазепа.

7 «Запорозькі козаки, – писав 1776 р. старшина В. Чернявський, – мають деякі поселення, де тримають худобу, коней й овець, мають пасіки, розводять сади й городи, роблять запаси сіна та худоби й засівають поля різним хлібом, ловлять звіра, а в річках – рибу».

Як козаки називали такі «поселення»?

- А зимівники
- Б паланки
- В повіти
- Г курені

8 Коли на українських землях було засновано університет, якому імперська влада ставила завдання «поширювати російську освіту й російську національність в ополяченому краю Західної Росії...»?

- А 1805 р.
- Б 1834 р.
- В 1865 р.
- Г 1875 р.

9 Кого із суспільно-політичних діячів називали «двічі арештованим», «буковинським королем», «народним послом до Відня»?

- А О. Довбуша
- Б У. Кармалюка
- В І. Вагилевича
- Г Л. Кобилицю

10 Якою цифрою на картосхемі позначено регіон товарного виробництва цукру наприкінці XIX – на початку XX ст.?

- А 1
- Б 2
- В 3
- Г 4



11 Боротьба за український університет стала важливим питанням політичної боротьби наприкінці XIX – на початку XX ст. для

- А Поділля.
- Б Східної Галичини.
- В Північної Буковини.
- Г Закарпаття.

12 Які однакові дії під час Першої світової війни застосовували російська та австрійська влади стосовно українських земель, що входили до складу Австро-Угорщини?

- А заборона діяльності українських політичних партій
- Б тотальна мобілізація чоловічого населення до армії
- В депортація нелояльної частини населення
- Г боротьба з греко-католицькою церквою

13 Укажіть фото діяча, який 1917 р. активно пропагував українізацію частин російської армії.



А



Б



В




Г

14 Провал планів партійно-радянського керівництва СРСР із хлібозаготівлі в Українській СРР 1932 р. призвів до запровадження на селі

- А терору голодом.
- Б системи раднаргоспів.
- В кампанії з розкуркулення.
- Г заходів зі згортання колективізації.

- 15 Ідеологічні гасла якої політичної сили відображено на плакаті й транспаранті?



- А Української національної партії (УНП)
- Б Організації українських націоналістів (ОУН)
- В Комуністичної партії Західної України (КПЗУ)
- Г Українського національно-демократичного об'єднання (УНДО)

- 16 Прочитайте уривок документа: *«Підготовча робота до евакуації та сама евакуація в'язниць у західних областях України розпочалася з 22 червня цього року. У чотирьох тюрмах утримували 5424 в'язні. У перший же день уторгнення німців в СРСР у тюрмах було виконано вироки щодо 108 в'язнів...»*

В'язні, про яких ідеться в уривку джерела, потрапляли до тюрем у результаті проведення

- А акції «пацифікації».
- Б політики «осадництва».
- В режиму «нового порядку».
- Г політики «радянізації».

- 17 Коли відбулася подія, у результаті якої польська влада планувала здійснити поставлені завдання: *«1. Залучити робочу силу для господарювання “повернутих земель”; 2. Остаточо підірвати життєву базу ОУН й УПА; 3. Асимілювати окремі родини етнічних українців у суцільній масі польського населення...»?*

- А 1944 р.
- Б 1945 р.
- В 1946 р.
- Г 1947 р.

18 «...Завдання семирічки в галузі сільського господарства ми зможемо виконати за п'ять років... Розрахунки показують, що посіви кукурудзи мають орієнтовно скласти 9–10 млн га і дорівнювати приблизно половині всієї площі зернових...»

Наведений уривок документа є свідченням реалізації

- А планів повоєнної відбудови України.
- Б однієї з надпрограм М. Хрущова.
- В заходів реформ О. Косигіна.
- Г Продовольчої програми.

19 Що призвело до виникнення в УРСР явища, на якому акцентує увагу карикатура?




– За продукцію своєї фабрики можете не хвилюватися. Її не бере ні міль, ні час, ні покупець.

- А тотальний дефіцит товарів широкого вжитку в торговельній мережі
- Б директивне планування виробництва, розподілу й споживання товарів
- В низький рівень культури обслуговування покупців
- Г постійне зростання цін у державних закладах торгівлі

20 Яке поняття треба використати, визначаючи головну ідею карикатури?

- А «геноцид»
- Б «шовінізм»
- В «колоніалізм»
- Г «анексія»



У завданнях 21–24 до кожного з чотирьох фрагментів інформації, позначених цифрою, доберіть один правильний, на Вашу думку, варіант, позначений буквою.

21 Узгодьте подію Національно-визвольної війни українського народу середини XVII ст. з роком, коли вона відбувалася.

- | | |
|----------------------|-----------|
| 1 Жванецька облога | А 1648 р. |
| 2 Зборівська битва | Б 1649 р. |
| 3 Берестецька битва | В 1651 р. |
| 4 Жовтоводська битва | Г 1652 р. |
| | Д 1653 р. |

	А	Б	В	Г	Д
1					
2					
3					
4					

22 Доберіть до кожного з видань його характеристику.

- | | |
|-------------------|--|
| 1 «Енеїда» | А перший український суспільно-політичний і літературно-мистецький журнал, що видавала українська громада 1861–1862 рр. у Петербурзі |
| 2 «Історія Русів» | Б український громадсько-політичний і науково-літературний збірник, що видавав у Женеві Михайло Драгоманов у період 1878–1879 рр. та 1882 р. |
| 3 «Основа» | В одна з визначних пам'яток української історичної та суспільно-політичної думки другої половини XVIII – початку XIX ст., у якій обстоювано ідею автономного державного розвитку України |
| 4 «Громада» | Г перший твір нової української літератури, надрукований у Санкт-Петербурзі 1798 р. |
| | Д щомісячний історико-етнографічний і літературний часопис, що видавали в Києві російською й українською мовами протягом 1882–1906 рр. |

	А	Б	В	Г	Д
1					
2					
3					
4					

23 Узгодьте ім'я історичної особи (постаті) з фактами її біографії.

- | | |
|--------------------|---|
| 1 Кость Левицький | А співзасновник Української національно-демократичної партії, голова Державного секретаріату ЗУНР |
| 2 Дмитро Донцов | Б учасник боїв за гору Маківка, командир Галицько-Буковинського куреня січових стрільців |
| 3 Євген Коновалець | В член Головної української ради, Загальної української ради, дипломат Української Держави, УНР |
| 4 Андрій Жук | Г співзасновник і голова Української національної партії на Буковині, Голова української національної громади в Румунії |
| | Д голова Союзу визволення України, теоретик та ідеолог українського націоналізму |

	А	Б	В	Г	Д
1					
2					
3					
4					

24 Узгодьте описане явище соціально-економічного життя з періодом історії України, для якого воно було характерним.

- | | |
|--|---|
| <p>1 «Успішний розвиток України та збільшення національного багатства потребують тісної взаємодії держави й національного бізнесу. Потрібно більшу частину товарів, що їх використовують в Україні, виробляти всередині країни...»</p> <p>2 «Прискорення соціально-економічного розвитку насамперед визначено необхідністю в перебудові структурної політики, форм і методів управління...»</p> <p>3 «...Ми хотіли, щоб нам дали картки із централізованим забезпеченням населення якоюсь кількістю продуктів й організацію харчування тих, хто голодує...»</p> <p>4 «Основна частина підприємств місцевого значення перейшла з підпорядкування союзних міністерств у підпорядкування обласних рад депутатів...»</p> | <p>А Україна в перші повоєнні роки (1945 – початок 1950-х рр.)</p> <p>Б Україна в умовах десталінізації (1953–1964 рр.)</p> <p>В Україна в період загострення кризи радянської системи (1965 – перша половина 1980-х рр.)</p> <p>Г Відновлення незалежності України (1985–1991 рр.)</p> <p>Д Творення нової України (початок ХХІ ст. – сьогодні)</p> |
|--|---|

	А	Б	В	Г	Д
1					
2					
3					
4					

У завданнях 25–27 розташуйте події в хронологічній послідовності. Цифри 1 має відповідати вибрана Вами перша подія, цифри 2 – друга, цифри 3 – третя, цифри 4 – четверта.

25 Установіть послідовність подій, описаних в уривках історичних джерел.

- А** «Прийшли іноплеменники на Руську землю, половці многі. А Ізяслав, і Святослав, і Всеволод вийшли супроти них на р. Альту. І коли настала ніч, рушили вони одні проти одних. ...і побігли руські князі, і перемогли половці...»
- Б** «У той же час поїхав був Данило в Угри до короля [Бели], бо він іще не чув про прихід татар на Київ. А коли Батий узяв Київ і почув він про Данила, що той в Уграх є, то рушив сам до [города] Володимира...»
- В** «І говорили [половці] руським князям: “Якщо ви не поможете нам, [то] ми нині порубані були, а ви завтра порубані будете...” І вирішили князі: “Лучче б нам зустріти їх на чужій землі, аніж на своїй”...»
- Г** «Прибули Святополк [Ізяславич], і Володимир [Всеволодович], і Давид Ігоревич, і Василько Ростиславич, і Давид Святославич, і брат його Олег, і зібралися в [городі] Любечі, щоб уладнати мир...»

	А	Б	В	Г
1				
2				
3				
4				

26 Установіть послідовність подій часів Другої світової війни, відображених на радянських плакатах.

А



Подати руку допомоги братнім народам Західної України й Західної Білорусії – наш священний обов'язок!

Б



ХАРКІВ РАДЯНСЬКИЙ!
ХАРКІВ НАШ – УКРАЇНСЬКИЙ!
ОБНІМІТЬСЯ, БРАТИ-УКРАЇНЦІ,
В ДЕНЬ ВЕЛИКОГО СВЯТА!

В



УКРАЇНА ВІЛЬНА!

Г



НЕЩАДНО РОЗІБ'ЄМО ТА
ЗНИЩИМО ВОРОГА!
ДОГОВІР про ненапад
між СРСР та Німеччиною

	А	Б	В	Г
1				
2				
3				
4				

27 Установіть послідовність подій періоду творення нової України.

- А початок Євромайдану
- Б вступ України до Світової організації торгівлі (СОТ)
- В укладення Мінських домовленостей
- Г підписання Україною Угоди про асоціацію з Європейським Союзом (ЄС)

	А	Б	В	Г
1				
2				
3				
4				

Завдання 28–30 мають по сім варіантів відповідей, з яких лише три правильні. Виберіть і запишіть три цифри, що позначають правильні, на Вашу думку, відповіді.

28 Визначте умови Білоцерківського договору 1651 р.

- 1 дозвіл короля на залучення ханом «для допомоги» Війська Запорозького
- 2 отримання шляхтою дозволу повернутися до своїх маєтків, зокрема до розміщених на козацьких територіях
- 3 виплата Гетьманщиною певної суми коштів до московської скарбниці
- 4 обмеження чисельності козацького реєстрового війська 40 тис. осіб
- 5 визнання козацькими територіями лише земель Київського воєводства
- 6 скасування «на вічні часи» посади гетьмана
- 7 позбавлення гетьмана права дипломатичних зносин з іноземними державами

29 Що стало результатом подій Другої світової війни, відображених на картосхемі?

- 1 утворення Червоною армією плацдармів на правому березі Дніпра
- 2 вигнання німецьких окупантів із Донбасу
- 3 депортація кримських татар та інших народів Криму
- 4 проголошення Акта відновлення Української держави
- 5 створення Української повстанської армії (УПА)
- 6 початок діяльності похідних груп ОУН
- 7 поява в лавах Червоної армії піхотних підрозділів, укомплектованих «чорносвитниками»



30 Які держави, крім України, входили до «нормандської четвірки» – формату переговорів для розв'язання російсько-українського збройного конфлікту?

- 1 Росія
- 2 США
- 3 Італія
- 4 Китай
- 5 Велика Британія
- 6 Франція
- 7 Німеччина

Номер завдання	Відповідь
1	Г
2	А
3	А
4	В
5	Б
6	Г
7	А
8	Б
9	Г
10	Б
11	Б
12	В
13	Б
14	А
15	Б
16	Г
17	Г
18	Б
19	Б
20	Г
21	1-Д, 2-Б, 3-В, 4-А
22	1-Г, 2-В, 3-А, 4-Б
23	1-А, 2-Д, 3-Б, 4-В
24	1-Д, 2-Г, 3-А, 4-Б
25	1-А, 2-Г, 3-В, 4-Б
26	1-А, 2-Г, 3-Б, 4-В
27	1-Б, 2-А, 3-Г, 4-В
28	257
29	127
30	167